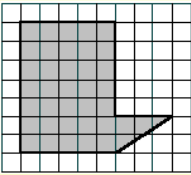
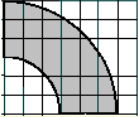
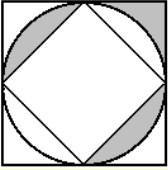


**כיתה ז'**  
**עבודה 2 – יחידות מידה (שטח)**

	<p>1. תרגיל . היחידות התקניות של שטח הן מ"ר (מטר רבוע) . בטא במטרים רבועים את השטח הבא: 280 סמ"ר</p>
	<p>2. תרגיל . בטא במטרים רבועים את השטח הבא: 1250 מ"ר</p>
	<p>3. תרגיל . בטא במטרים רבועים את השטח הבא: 32 דצמ"ר</p>
	<p>4. תרגיל . בטא במטרים רבועים את השטח הבא: 0.3 קמ"ר</p>
	<p>5. תרגיל . כמה מטרים רבועים (מ"ר) ב - 37 סמ"ר?</p>
	<p>6. תרגיל . מה שטח הצורה הבאה אם ידוע שכל משבצת היא ריבוע ששטחו 1 סמ"ר?</p>
	<p>7. תרגיל . מה שטח הצורה הבאה אם ידוע שכל משבצת היא ריבוע ששטחו 1 סמ"ר?</p>
	<p>8. תרגיל . בריבוע שאורך צלעו 8 ס"מ חסום מעגל החוסם ריבוע פנימי. מה השטח המושחר?</p>
	<p>9. תרגיל . כמה מטרים רבועים (מ"ר) ב - 38 סמ"ר?</p>
<p>10. תרגיל . מה יהיה אורך הרצועה המורכבת מריבועים בעלי שטח של- 1 סמ"ר, שנגזרו מדף ששטחו 3 מ"ר ?</p>	

**לדף קודם הקישו כאן**